

# **PATRIMONIO DEL TRENTINO – QUESTIONARIO**

*40 domande: 10 Ragionamento Verbale, 10 Ragionamento Numerico, 10 Ragionamento Astratto,  
10 quesiti informatici.*

## **RAGIONAMENTO VERBALE**

### **Nel rispondere alle prossime cinque domande si consideri il brano che segue**

La cancelleria regolarmente approvvigionata consiste in articoli di uso frequente, quali matite, spilli, gomme, toner, carta, Post-it ecc. Questi articoli si possono avere, nel caso che abbisognino, telefonando al signor Guidi, chiedendogli l'invio della quantità desiderata. Mensilmente ogni ufficio compila un elenco del materiale prelevato e lo manda all'Ufficio Amministrazione per la registrazione. Moduli di richieste rosa devono essere usati per ordinare materiale stampato (fatture, carta intestata, eccetera). Questi moduli debbono essere recapitati al sig. Guidi tramite il servizio fattorini. Se le macchine d'ufficio richiedono riparazioni, si chiama la signorina Frosbi e le si danno i particolari (tipo di macchina, guasto, eccetera). Eseguite le riparazioni si informa la signorina Frosbi perché approvi le spese di riparazione. Quando è necessario ordinare articoli speciali, non esistenti in magazzino, si devono chiedere offerte alle ditte fornitrici e gli articoli devono venire ordinati al miglior offerente per mezzo di modulo di richiesta azzurro che deve essere approvato sia dall'Ufficio Amministrazione che dal Direttore.

1. Una richiesta scritta è necessaria per ottenere:
  1. tutti i materiali
  2. riparazioni di stampanti
  3. carta intestata\*
  4. matite
  
2. Le richieste per riparazioni alla fotocopiatrice sono trattate:
  1. dall'Ufficio Amministrazione
  2. dal signor Guidi
  3. dal magazzino Cancelleria
  4. dalla signorina Frosbi\*
  
3. Per quali richieste è necessaria l'approvazione del Direttore?
  1. Richieste su moduli rosa
  2. Richieste su moduli azzurri\*
  3. Riparazioni
  4. Cancelleria
  
4. Bisogna richiedere offerte prima di ordinare:
  1. forniture speciali\*
  2. riparazioni
  3. stampati
  4. toner
  
5. Il pagamento delle spese di riparazione è approvato:
  1. dal signor Guidi
  2. dall'Ufficio Amministrazione
  3. dal Direttore
  4. dalla signorina Frosbi\*

6. .... sta a FANCIULLO come POMERIGGIO sta a .....

- |                       |                    |                    |                  |
|-----------------------|--------------------|--------------------|------------------|
| <b>A. ADOLESCENTE</b> | <b>B. ASSOLATO</b> | <b>C. CALDO</b>    | <b>D. BUONO</b>  |
| <b>E. MATTINO</b>     | <b>F. SCUOLA</b>   | <b>G. PEDIATRA</b> | <b>H. OTTAVO</b> |

1. HG
2. AE\*
3. BC
4. FD

7. .... sta a EDISON come CANNOCCHIALE sta a .....

- |                       |                   |                     |                 |
|-----------------------|-------------------|---------------------|-----------------|
| <b>A. ESCULAPIO</b>   | <b>B. GALILEO</b> | <b>C. LAMPADINA</b> | <b>D. NOBEL</b> |
| <b>E. IMPOSSIBILE</b> | <b>F. IDEA</b>    | <b>G. METEORITE</b> | <b>H. MELA</b>  |

1. HA
2. CB\*
3. DE
4. GF

8. .... sta a FRUTTO come CUCCIULO sta a .....

- |                    |                   |                     |                   |
|--------------------|-------------------|---------------------|-------------------|
| <b>A. BRANCHIA</b> | <b>B. PESCE</b>   | <b>C. FIORE</b>     | <b>D. COLLARE</b> |
| <b>E. CANE</b>     | <b>F. TURISTA</b> | <b>G. PELLICCIA</b> | <b>H. OSSA</b>    |

1. AD
2. CE\*
3. BG
4. FH

9. Quale parola non è simile alle altre tre?

1. Marsupio
2. Sedia\*
3. Busta
4. Armadio

10. Quale parola non è simile alle altre tre?

1. Cubo
2. Sfera
3. Ellisse\*
4. Prisma

## RAGIONAMENTO NUMERICO

11. Qual è la differenza tra i due risultati?

$$330 + 189 =$$

$$330 - 83 =$$

1. 106
2. 189
3. 272\*
4. 83

12. Qual è la differenza tra i due risultati?

$$250 + 276 + 5 =$$

$$250 + 180 + 96 =$$

1. 192
2. 96
3. 101
4. 5\*

13. Qual è la differenza tra i due risultati?

$$352 \times 56 =$$

$$362 \times 56 =$$

1. 18
2. 35,2
3. 560\*
4. 56

14. Qual è il numero che completa la serie?

70    72    ..?..    146    292    294    588    590

1. 74
2. 77
3. 144\*
4. 148

15. Qual è il numero che completa la serie?

28    19    38    46    92    ..?..    170    176

1. 181
2. 85\*
3. 89
4. 91

16. Qual è il numero che completa la serie?

57    60    64    68    73    78    84    ..?..

1. 92
2. 87
3. 90\*
4. 81

17. Una famiglia è composta da padre, madre e 7 figli. La famiglia parte per un viaggio, tranne un terzo dei componenti. Quanti rimangono a casa?

1. 6
2. 3\*
3. 4
4. 2

18. Un treno viaggia a velocità costante e percorre in un'ora 80 km. Quanti km percorre in 15 minuti?

1. 30
2. 25
3. 20\*
4. 10

19. Per partecipare a una manifestazione di musica punk il prezzo del biglietto d'ingresso per minorenni, scontato del 30%, è di 28 euro. Quanto è il prezzo del biglietto intero per gli adulti?

1. 50 euro
2. 40 euro\*
3. 45 euro
4. 60 euro

20. Un operaio lavora 8 ore e guadagna 9 euro l'ora. Se lavorasse 6 ore e 20 minuti, quanti euro guadagnerebbe?

1. 60
2. 68
3. 57\*
4. 59

### RAGIONAMENTO ASTRATTO

21. Quale delle figure è diversa dalle altre?



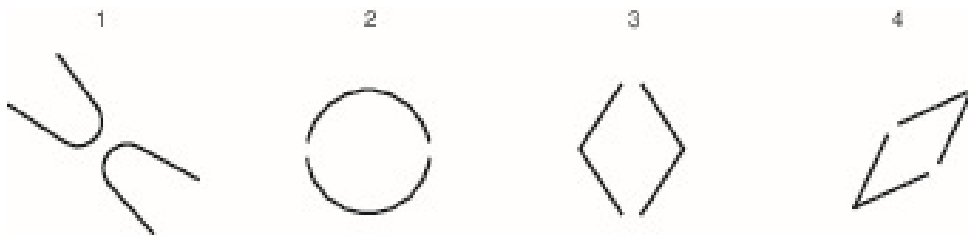
Risposta corretta: 3

22. Quale delle figure è diversa dalle altre?



Risposta corretta: 2

23. Quale delle figure è diversa dalle altre?



Risposta corretta: 1

24. Quale delle figure è diversa dalle altre?




Risposta corretta: 4

25. Quale delle figure è diversa dalle altre?



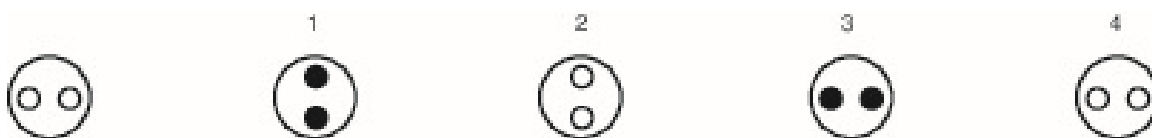
Risposta corretta: 3

26. Quale tra le figure a destra è maggiormente diversa dalla figura di sinistra?



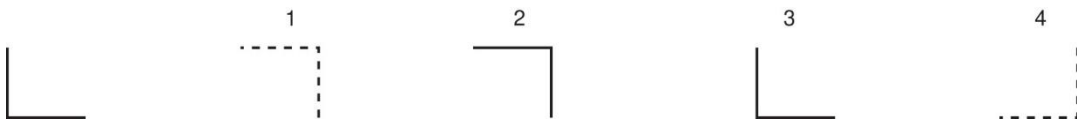
Risposta corretta: 3

27. Quale tra le figure a destra è maggiormente diversa dalla figura di sinistra?



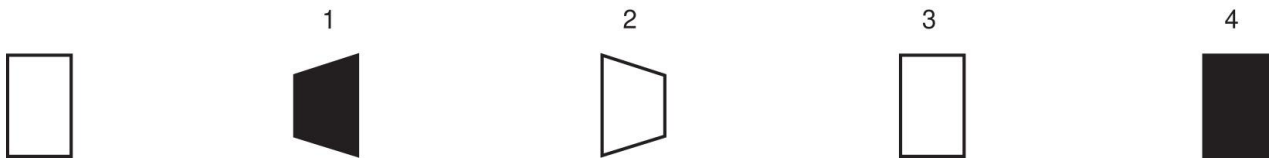
Risposta corretta: 1

28. Quale tra le figure a destra è maggiormente diversa dalla figura di sinistra?



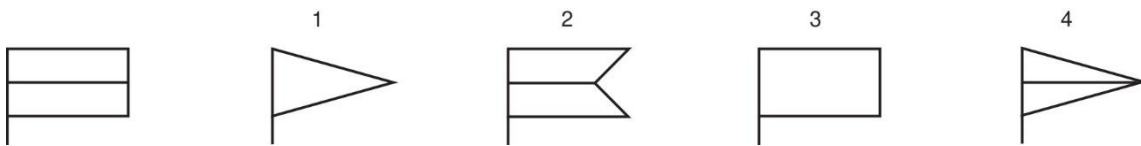
Risposta corretta: 1

29. Quale tra le figure a destra è maggiormente diversa dalla figura di sinistra?



Risposta corretta: 1

30. Quale tra le figure a destra è maggiormente diversa dalla figura di sinistra?



Risposta corretta: 1

31 Quale tra i seguenti software è un browser internet?

- A. Google Chrome
- B. File Explorer
- C. Excel

ANSWER: A

32 Quale tra i seguenti è un motore di ricerca per internet?

- A. Firefox
- B. Word
- C. Google

ANSWER: C

33 Premendo il tasto CANC nel programma Microsoft Word si cancella:

- A. il carattere che si trova a destra del cursore
- B. solo lo spazio vuoto
- C. il carattere che si trova a sinistra del cursore

ANSWER: A

34 Se un file ha l'estensione ".docx" sarà utilizzato dall'applicazione...

- A. Photoshop
- B. Word
- C. Excel

ANSWER: B

35 In un documento Word, che cosa si intende con il termine "interlinea"?

- A. La quantità' di spazio che separa una colonna dalla successiva
- B. La quantità' di spazio inserita dopo un paragrafo
- C. Lo spazio compreso tra la parte inferiore di una riga di testo e la parte inferiore della riga di testo successiva

ANSWER: C

36 Quale dei seguenti file è stato creato dal software Excel?

- A. Pluto.xls
- B. Pluto.pdf
- C. Pluto.doc

ANSWER: A

37 Nel software Word, se si usa il comando "salva" dal menu "file":

- A. si salva un documento in una cartella diversa da quella originale
- B. si salva un documento sostituendone la versione precedente
- C. si modificano i margini di un documento

ANSWER: B

38 Usando il software Word, è possibile avere due o più paragrafi formattati con rientri diversi?

- A. No, il formato del paragrafo può variare solo tra due paragrafi, non di più
- B. Sì
- C. No, il formato del paragrafo è unico per tutto il documento

ANSWER: B

39 In un foglio del programma Excel nella cella a1 abbiamo il valore 0, nella cella a2 il valore 1, nella cella a3 il valore 2. Se nella cella a4 si pone la formula "=a2", quale valore si ottiene?

- A. 3
- B. A2
- C. 1

ANSWER: C

40 Nel software Excel quali elementi identificano una cella?

- A. La lettera che individua la colonna ed il numero che individua la riga
- B. Il testo in essa contenuto
- C. Il tipo di formula

ANSWER: A